

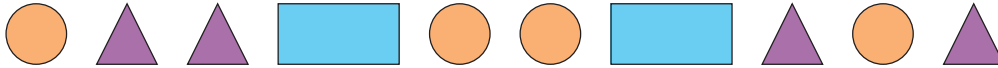
**234** a. 0,5;      b. 0,01;      c. 0,03.

**235** a. 0,04;      b. 0,67;      c. 0,02.

**236** a. 0,32;      b. 0,01;      c. 0,76.


**237** a. 0,4;      b. 0,15;      c. 0,45.

**238** Calcola la percentuale di rettangoli e cerchi presenti nelle seguenti figure:



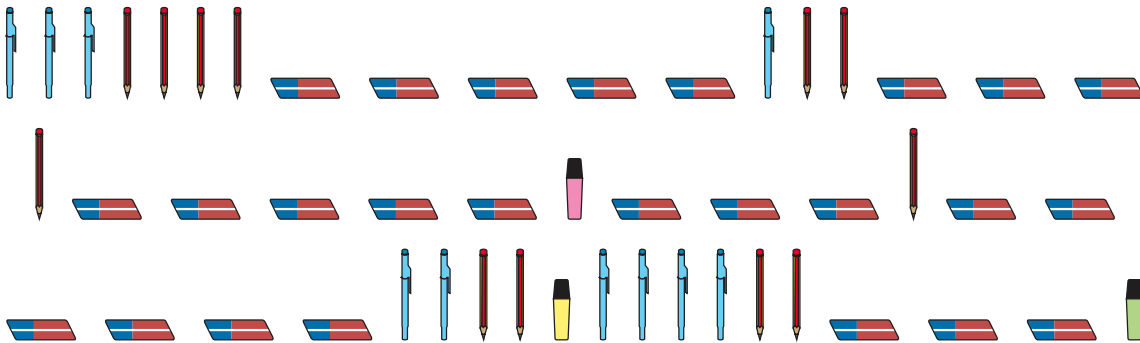
[20%; 40%]

**239** Calcola la percentuale dei gatti, dei conigli e delle pecore nel seguente insieme di animali:



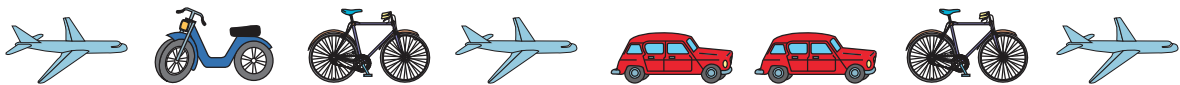
[25%; 20%; 30%]

**240** Calcola la percentuale di matite, evidenziatori, biro e gomme nella seguente figura:



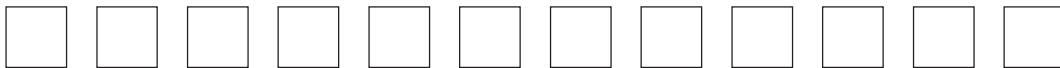
[24%; 6%; 20%; 50%]

**241** Calcola la percentuale di biciclette presenti nelle seguenti figure:



[25%]

**242** Colora il 25% delle seguenti figure:



**243** Colora il 50% delle seguenti figure:



**244** Colora il 20% delle seguenti figure:



**245** Colora il 15% delle seguenti figure:

