

Test per l'autovalutazione

1 Di quattro figure A, B, C, D si sa che A e B sono equicomposte, che C e D sono equicomposte, ma che A e C non sono equicomposte; si può dire che:

- a. A e B sono equivalenti, C e D sono equivalenti ma non si può escludere che siano tutte e quattro equivalenti ☒ ☐
- b. $A + C \doteq B + D$ ☒ ☐
- c. $A + C + B \doteq B + D + A$ ☒ ☐
- d. se A, B, C, D sono dei poligoni, allora A e C non possono essere equivalenti. ☒ ☐

[8 punti]

2 Le seguenti proposizioni si riferiscono a un parallelogramma di base $b = 10\ell$ e altezza $h = 20\ell$; barra vero o falso.

- a. È equivalente ad un triangolo di base $b = 20\ell$ e altezza $h = 20\ell$ ☒ ☐
- b. È equivalente ad un triangolo di base $b = 20\ell$ e altezza $h = 10\ell$ ☒ ☐
- c. È equivalente al doppio di un triangolo di base $b = 10\ell$ e altezza $h = 20\ell$ ☒ ☐
- d. È equivalente ad un rettangolo di dimensioni 10ℓ e 20ℓ . ☒ ☐

[12 punti]

3 Un trapezio ha la base maggiore lunga $8a$, la base minore lunga $4a$ e l'altezza lunga $6a$; si può dire che è equivalente a:

- a. un triangolo di base $12a$ e altezza $6a$ ☒ ☐
- b. un quadrato di lato $6a$ ☒ ☐
- c. un rettangolo di lati $12a$ e $6a$ ☒ ☐
- d. un rombo di lato $6a$. ☒ ☐

[12 punti]

4 Due triangoli di basi b_1 e b_2 e altezze h_1 e h_2 sono equivalenti; si può dire che:

- a. $b_1 \cong b_2 \wedge h_1 \cong h_2$ ☒ ☐
- b. se $b_1 \cong b_2$ allora $h_1 \cong h_2$ ☒ ☐
- c. se $2b_1 \cong b_2$ allora $2h_1 \cong h_2$ ☒ ☐
- d. se $2b_1 \cong b_2$ allora $h_1 \cong 2h_2$. ☒ ☐

[8 punti]

5 In un trapezio $ABCD$, N e M sono i punti medi dei lati obliqui AD e BC ; dimostra che il triangolo AMD è equivalente al triangolo BNC . [15 punti]

6 Un trapezio $ABCD$ di basi AB e CD ha le diagonali perpendicolari che si incontrano in P . Dimostra che la somma dei quadrati costruiti sui lati obliqui è equivalente alla somma dei quadrati che hanno per lati i segmenti in cui le diagonali sono divise dal punto P . [15 punti]

7 In un triangolo ABC l'altezza AH misura $9a$, l'angolo di vertice B è di 45° , l'angolo di vertice C è di 60° . Completa:

- a. il perimetro del triangolo misura
- b. l'area del triangolo misura [15 punti]

8 Il perimetro di un rettangolo è 140cm e la diagonale è $\frac{5}{3}$ di un lato. Calcola l'area del rettangolo e il perimetro e l'area del quadrilatero che si ottiene tracciando dai vertici le parallele alle diagonali, dopo averne riconosciuto le caratteristiche. [15 punti]

SOLUZIONI DEL TEST

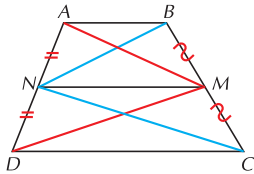
1 a. V, b. V, c. V, d. V

2 a. V, b. F, c. V, d. V

3 a. V, b. V, c. F, d. F

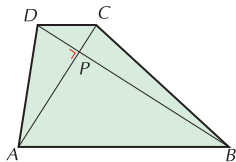
4 a. F, b. V, c. F, d. V

5



Tracciata la corda MN che è parallela alle basi del trapezio (inverso del teorema del fascio di rette parallele) sono equivalenti i triangoli ANM e BNM , DNM e CNM ; di conseguenza sono equivalenti anche i triangoli NBC e MAD perché somme di triangoli equivalenti.

6



I triangoli DPA e CPB sono rettangoli; applicando il teorema di Pitagora a ciascuno di essi otteniamo:

$$q(AD) \doteq q(DP) + q(AP) \qquad q(CB) \doteq q(PC) + q(PB)$$

Sommando membro a membro le due relazioni si ottiene la tesi.

7 a. $9a(\sqrt{3} + \sqrt{2} + 1)$, b. $\frac{27}{2}a^2(3 + \sqrt{3})$

8 Posto $\overline{CB} = x$, con $x > 0$, si ha che: $\overline{AC} = \frac{5}{3}x$ $\overline{AB} = \sqrt{\frac{25}{9}x^2 - x^2} = \frac{4}{3}x$

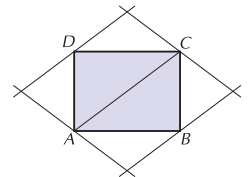
Imponendo che il perimetro sia uguale a 140 si ottiene l'equazione:

$$2x + 2 \cdot \frac{4}{3}x = 140 \quad \rightarrow \quad x = 30$$

Di conseguenza: $\overline{CB} = 30$ $\overline{AB} = 40 \rightarrow \text{area} = 1200\text{cm}^2$

Il quadrilatero che si ottiene tracciando le parallele alle diagonali è un rombo avente il lato congruente alle diagonali; di conseguenza il suo perimetro è 200cm.

Il rombo ha una superficie doppia di quella del rettangolo, l'area è quindi 2400cm^2 .



AUTOVALUTAZIONE

Controlla l'esattezza delle soluzioni ed assegnati il punteggio corrispondente per ciascun esercizio svolto correttamente.

